



## معمای شطرنج



نوبت حرکت با سفید است، آیا می توانید تنها در چهار حرکت، مهره سیاه را مات کنید؟



## خفن استریپ

حس طنزتان را به کار ببندازید و حدس بزنید تصویر، چه کلمه ای را نشان می دهد! به نمونه توجه کنید و برای این که بدانید کلمه چند حرفی است تعداد خانه های زیر تصویر را بشمارید.



○ ○ ○ ○ ○ ○ ○ ○

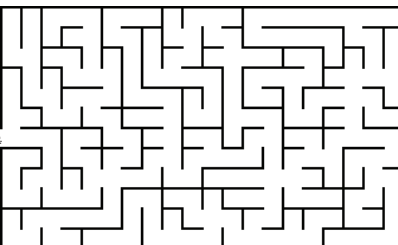


○ ○ ○ ○ ○ ○ ○ ○



## مسیریاب

فقط با حرکت چشمانتان و حفظ تمرکز لازم، مسیر درست را در این مارپیچ پیدا کنید.



شروع

پایان

## بازی ریاضی



سه تا از این اعداد درست ولی فقط یکی در جای درست قرار دارد

تمام اعداد غلط هستند

دو تا از این اعداد درست و در جای درست قرار دارند

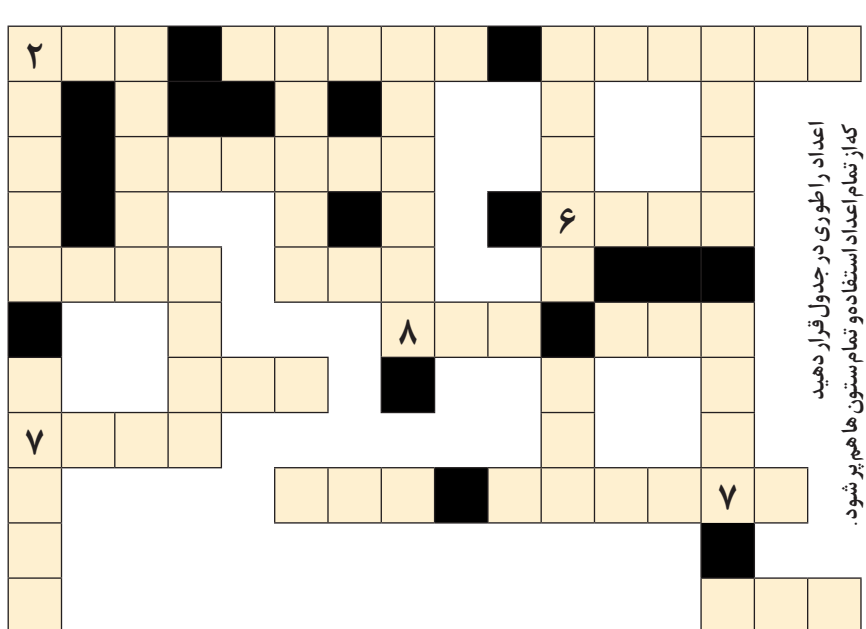
دو تا از این اعداد درست ولی فقط یکی در جای درست قرار دارد

دو تا از این اعداد درست ولی هیچ کدام در جای درست قرار ندارد

اگر کمی با اعداد رابطه خوبی داشته باشید، می توانید رمز ۵ رقمی مخفی شده را بر اساس داده های بالا بیابید؛ فقط کافی است کمی دقت کنید و رابطه بین اعداد را در سطرهای بالا پیدا کنید.



## عدد دیاب



سه رقمی: ۲۵۶-۲۴۳-۲۹۳  
چهار رقمی: ۳۵۲-۴۵۲-۸۲۹  
پنج رقمی: ۲۵۴-۳۳۵۴-۲۹۸۴۳  
شش رقمی: ۳۹۵۷۲۸-۳۹۴۶۲۵

اختلاف تصاویر

آیا می توانید تعداد ۸ تفاوت را بین دو تصویر مشابه پیدا کنید؟  
با این تمرین می توانید آلازایمر را از خود دور کنید. این بازی همچنین ورزشی برای ذهن شماست تا در کارهای روزمره تمرکز بیشتری داشته باشید.  
لذت این بازی زمانی بیشتر می شود که آن را در کنار خانواده و با مشارکت آن ها انجام دهید.

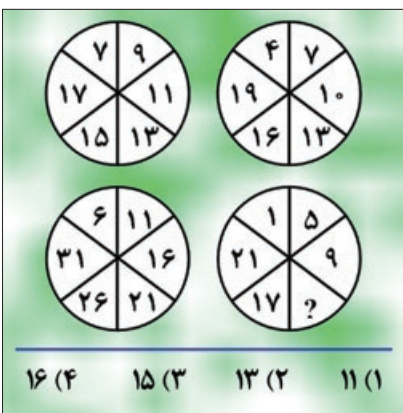


جدول متوسط | ۷۴۸۰

اردن - از سبک های نقاشی ۷. از شهرهای گیلان  
- الهه ماه سومریان ۸. انس - اثر پا - خرما فروش  
۹. برکت سفره - بی ریش - آب دست ۱۰. سستی  
وسهل انگاری - از آثار معروف دکتر علی شریعتی  
۱۱. شهر سوهان - روح - پایتخت ریشه ای ۱۲ - از  
شهرهای آذربایجان غربی - روا  
عمودی: ۱. پسر مازندرانی - دیفتری ۲. دل آزار  
کهنه - پناهگاه - دست مالیدن ۳. پارچه پنبه  
ای سفید - بوی ماندگی ۴. یکی از چهار کتاب  
مسیحیان - بوزینه - حجم هندسی ۵. آب  
روستایی - راندن مزاحم - چرم فروش ۶. آبرود  
- از ماه های میلادی ۷. پوشش - آخرین نبرد  
ناپلئون ۸. پیمان ناقلا - باب روز - برجستگی  
لاستیک ۹. از حروف یونانی - بصیر - رنگ موی  
گیاهی ۱۰. توان - سیمان ۱۱. دویار هم قد  
- با ایمان - از  
حیوانات اهلی ۱۲. آب  
از آثار  
فهمیه رحیمی  
- از شهرهای  
۸. لوپنس  
۹. دوس  
۱۰. دوس  
۱۱. دوس  
۱۲. دوس



## تست هوش



با توجه به اعداد داده شده در شکل بالا، گزینه مناسب را برای جای خالی پیدا کنید.



## معمای

## قد بلندترین دانش آموز

در یک مدرسه، قد پنج نفر از دانش آموزان را اندازه گیری و یادداشت کردند. بعد از مقایسه قد دانش آموزان، اطلاعات زیر به دست آمد:

- دانیال، از بهروز بلندتر و از مهران کوتاه تر است.

- مهران، از سعید بلندتر و از بهرام کوتاه تر است.

با توجه با این اطلاعات، قد بلندترین دانش آموز چه کسی است؟



## مسیریاب

فقط با حرکت چشمانتان و حفظ تمرکز لازم، مسیر درست را در این مارپیچ پیدا کنید.





شروع

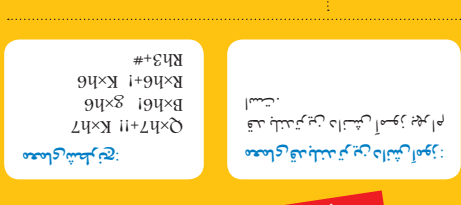
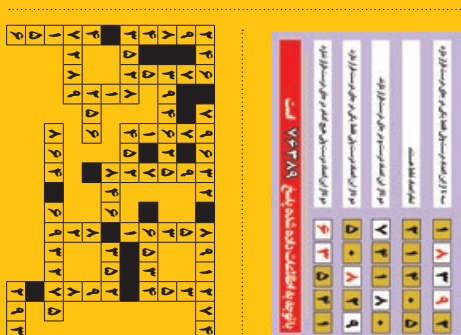

پایان

## سودو کو

قانون: ارقام ۱ تا ۹ را در خانه های خالی بنویسید طوری که در هر سطر، در هر ستون و در هر مربع ۳ در ۳ هیچ رقمی تکراری نباشد.



## حل جدول و معماها




شروع

پایان

خواندگی - چهره شطرنجی - خروس ۷. پسوند  
شباهت - بوی ماندگی - سرهنگ ۸. دیفتری  
- زمان خواب - توده بخار متراکم ۹. از ما بهتران -  
آینده ۱۰. رودی در تهران - سارق ۱۱. اسم فارسی  
گل عصف - انس - برگ برنده ۱۲. خرس به ترکی  
- خطای فوتبالی - رهبر حزب  
عمودی: ۱. دریل - سرزمین بلقیس - آش ۲. از  
آثار مجتبی عبدالحی - خطاب بی ادبانه ۳. از  
رودهای مهم ایران - رقیب تام ۴. شهر ریشه -  
اقیانوس خاموش ۵. بعید ۶. پشیمانی - پایتخت  
سوئیس - از انواع ماهی ۷. از شهرهای آذربایجان  
غربی - از شهرهای سیستان و بلوچستان - حرکت  
کرم ۸. حرکت هوا ۹. از شهرهای کرمانشاه -  
خاندان ۱۰. بازی تخته - از شهرهای استرالیا  
۱۱. چهره - از  
نقاشان نامی  
ایران ۱۲. آقای  
فرنگی - ماده ضد  
عفونی کننده -  
خوردنی پس از  
غذا

حل جدول شماره ۷۲۷۹

## جدول سخت | ۶۸۷



افقی: ۱. پدر شعر نو - ارزان ۲. از حروف یونانی - پایتخت تونس - بالای  
فرنگی ۳. چه وقت - کشور فلاسفه ۴. درخت تسبیح - از حروف یونانی  
- بی سواد ۵. پایتخت آذربایجان - حرارت بدن - حرف تعجب ۶. پایتخت

حل جدول شماره ۶۸۶